



## امتحان شهادة إتمام الدراسة الثانوية العامة - الشعبة الأدبية

للعام الدراسي ٢٠٢٢/٢٠٢٣ - الدور الأول

المادة : الجغرافيا

التاريخ : ٢٥ / ٦ / ٢٠٢٣

زمن الإجابة : ثلاث ساعات

_____ /	اسم الطالب (رباعياً)
_____ /	المديرية / المحافظة /
_____ /	رقم الجاسوس /
_____ /	لجنة الامتحان /



### تعليمات هامة

عزيزي الطالب .. اقرأ هذه التعليمات بعناية:

- تأكد من كتابة بياناتك كاملة وبطريقة صحيحة أعلى ورقتي الإجابة قبل البدء في الامتحان.
- عدد أسئلة كراسة الامتحان (٤٦) سؤالاً، منها عدد (٢) سؤالين مقالين يتم الإجابة عليهما في ورقة الإجابة المخصصة لذلك.
- عدد صفحات كراسة الامتحان (٢٨) صفحة بخلاف الغلاف.
- تأكد من تسلسل ترقيم الأسئلة، ومن عدد صفحات كراسة الامتحان، فهي مسئوليتك.
- زمن الامتحان (٣ ساعات).
- الدرجة الكلية للامتحان (٦٠) درجة.
- اقرأ السؤال بعناية، وفكر فيه جيداً قبل البدء في إجابته.
- استخدم القلم الجاف الأزرق فقط في الإجابة، وممنوع الكشط أو استخدام المزيل.
- عند إجابتك عن الأسئلة ظلل الدائرة ذات الرمز الدال على الإجابة الصحيحة تظليلاً كاملاً لكل سؤال بالقلم الجاف.
- مثال: عندما تكون الإجابة الصحيحة (ج) تظلل الدائرة الموجودة تحت الرمز (ج).
- في حال قيامك باختيار إجابة خطأ، قم بعمل علامة (X) عليها بشكل واضح، ثم قم بتظليل الرمز الدال على الإجابة الصحيحة وسيتم احتسابها، كما في الشكلين التاليين:

مثال	مثال
الإجابة الصحيحة أ ب ج د ○ ○ ○ ⊗ 12	الإجابة الصحيحة أ ب ج د ○ ○ ○ ○ 12

- اختر إجابة واحدة فقط؛ لأنه عند اختيار إجابتين أو أكثر تفقد درجة السؤال.
- يتم إجابة الأسئلة المقالية في ورقة الإجابة المخصصة لإجابة الأسئلة المقالية وفي المكان المحدد لكل سؤال.
- لا يعتد بإجابة أسئلة الاختيار من متعدد والأسئلة المقالية في كراسة الأسئلة.
- كن حريصاً على تظليل إجابتك في نطاق دائرة الإجابة.
- في حال استلامك ورقة إجابة تالفة أو مطبوعة بشكل غير واضح، قم بطلب ورقة إجابة جديدة من المشرف.
- تأكد من تطابق رقم السؤال في ورقة أسئلة الاختبار مع نفس الرقم في ورقة الإجابة.

مع أطيب التمنيات بالتوفيق والنجاح



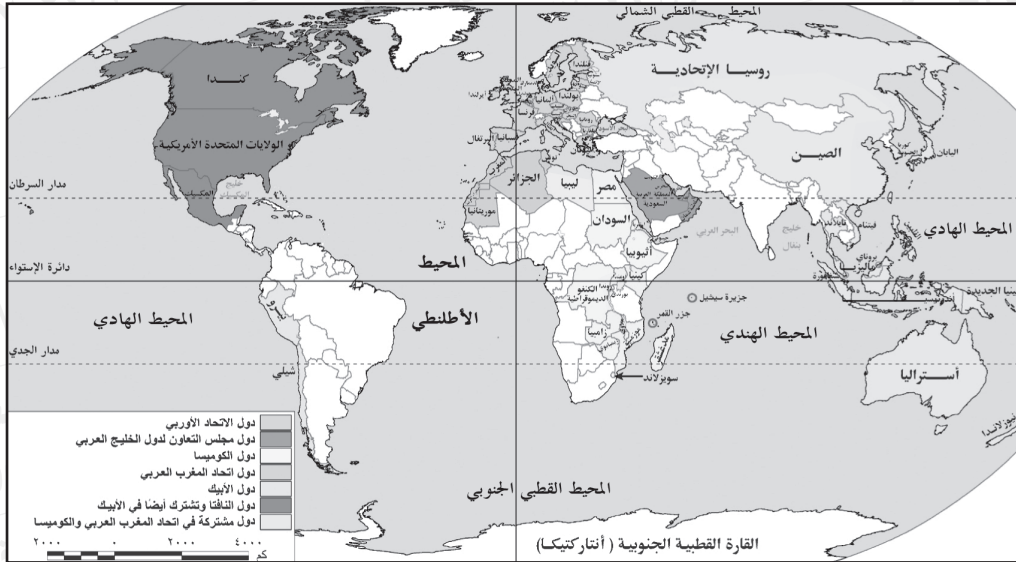
**أولاً - الأسئلة الموضوعية (الاختيار من متعدد) «كل سؤال درجة واحدة»:**

١ - يظهر دور الجغرافيا السياسية التطبيقي لنشر السلام والأمن الدوليين،

من خلال .....

- Ⓐ تحديد عناصر قوة وضعف الوحدات السياسية.  
Ⓑ دراسة الوحدات السياسية جغرافياً.  
Ⓒ اقتراح حلول مناسبة للمشكلات السياسية.  
Ⓓ تحليل التجمعات الإقليمية تحليلاً جغرافياً.

٢ - ادرس الخريطة جيداً ثم استنتج:



التكتل الاقتصادي الذي يستطيع زيادة عدد وحداته السياسية مع احتفاظه بالمقوم الجغرافي والإثنوغرافي .....

- Ⓐ الكوميسا.  
Ⓑ مجلس التعاون لدول الخليج العربي.  
Ⓒ الأبيك.  
Ⓓ الاتحاد الأوروبي.

٣- تفكك الاتحاد السوفيتي وجناحيه الاقتصادي والعسكري يؤكد صحة آراء

العالم .....

- أ) كيلين.
- ب) أرسطو.
- ج) سجفريد.
- د) ابن خلدون.

٤- شاهد العالم في بث مباشر وقائع احتفالية مصر بنقل المومياوات من

خلال .....

- أ) وسائل الاتصالات السلكية واللاسلكية.
- ب) الاستشعار من بُعد.
- ج) نظم المعلومات الجغرافية.
- د) نظام تحديد المواقع العالمية.

٥- جميع الأحلاف العسكرية ذات صبغة رأسمالية يخرج عنها حلف .....

- أ) جنوب شرق آسيا.
- ب) المركزي.
- ج) الناتو.
- د) وارسو.

٦- ادرس الخريطة ثم استنتج:



يُعتبر خليج كاليفورنيا بأمريكا الشمالية بمثابة .....

- أ) مياه داخلية للمكسيك.
- ب) مياه داخلية للولايات المتحدة الأمريكية.
- ج) مياه إقليمية للمكسيك.
- د) مياه إقليمية للولايات المتحدة الأمريكية.

٧- دولة (هولندا) أقل منعة أثناء تعرضها للاحتلال، يرجع ذلك لوقوعها في .....

أ) سهول البمباس.

ب) السهول الوسطى.

ج) السهل الأوروبي العظيم.

د) سهول سيبيريا.

٨- «تقع (مصر) في الحوض الأدنى لنهر النيل، بينما تقع (نيجيريا) في

الحوض الأدنى لنهر النيجر».

في ضوء العبارة استنتج:

تشابه كل من مصر ونيجيريا في .....

أ) اتجاه النهر في كل منهما.

ب) الحاجة لتفعيل اتفاقيات الأنهار الدولية.

ج) أن أنهارهما يمثلان حدوداً سياسية لهما.

د) استغلال أنهارهما لتحقيق التواصل الحضاري.

٩- العبارة التي تشير إلى مفهوم الأمة .....

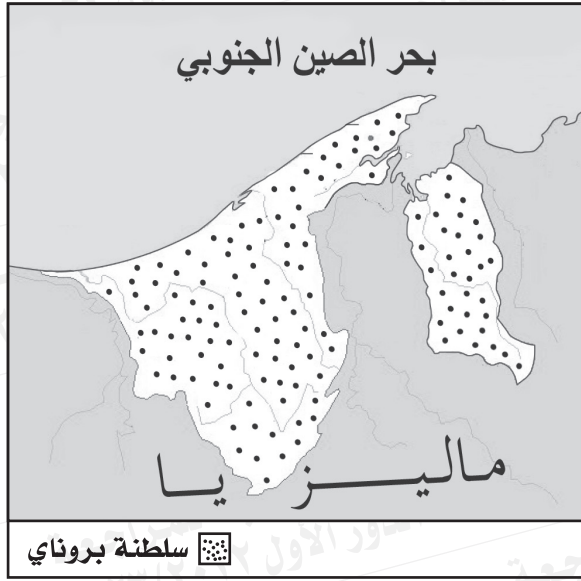
أ) قيام مجموعة بشرية بإجراء انتخابات تشريعية.

ب) تميز مجموعة بشرية بتراث شعبي شديد الخصوصية.

ج) اتخاذ قرار بعقد معاهدة سياسية.

د) اتخاذ قرار بالانضمام لحلف عسكري.





١٠ - أمامك خريطة لسلطنة

(بروناي) ادرسها ثم استنتج:

تتشابه (بروناي) من حيث

الشكل مع دولة .....

أ) فرنسا.

ب) اليابان.

ج) إيطاليا.

د) الولايات المتحدة الأمريكية.

١١ - ادرس الجدول ثم استنتج:

الدولة	خصائص الدولة من حيث الشكل والامتداد الفلكي
س	تمتد من الشرق للغرب بطول ٤٥٠ كم ومن الشمال للجنوب بطول ٤٠٠ كم
ع	تمتد في ٤ دوائر عرض و ١٥ خط طول
ن	نصف قطرها ٢٥٠ كم
م	تمتد من الشرق للغرب بطول ٢٠٠ كم ومن الشمال للجنوب ١٢٠٠ كم

الدولة التي قد تعاني من صعوبة الاتصال بين أجزائها وتتميز بالتنوع

المناخي .....

ب) س .

د) ن .

أ) ع .

ج) م .

١٢ - «تتعدد مناطق قلب أو نواة الدولة على خريطة العالم». في ضوء العبارة استنتج:



الدولة التي يجاورها أقل عدد من الدول تتمتع بوجود قلب ذات أهمية .....

- أ) اقتصادية.
- ب) سياسية.
- ج) دينية.
- د) سكانية.

١٣ - الحدود التي توجد على أبعاد متساوية من ظاهرة طبيعية هي .....

- أ) النهرية.
- ب) الجبلية.
- ج) الحضارية.
- د) الهندسية.

١٤ - تأكدت السيادة المطلقة للوحدات السياسية على أراضيها مع ظهور .....

Ⓐ العولمة.

Ⓑ التخوم.

Ⓒ الحدود السياسية.

Ⓓ التكتلات الاقتصادية.

١٥ - «من خصائص الحدود أنها قابلة للنقل والحركة والاختفاء أحياناً».

في ضوء هذه العبارة استنتج:

المنطقة التي شهدت تعديلاً للحدود في العقد الأخير من القرن العشرين

تشرف على .....

Ⓐ بحر قزوين.

Ⓑ خليج هدسن.

Ⓒ الخليج العربي.

Ⓓ بحر المانش.

١٦ - من خلال الجدول استنتج:

الدولة	المساحة بالألف كم <sup>٢</sup>
س	٣٠
ص	٢٥٠
ع	٧٠٠
ل	١٠٠

الدولة الأقل تضرراً حال تعرضها لزلزال .....

Ⓐ ل

Ⓑ ص

Ⓒ ع

Ⓓ س

١٧ - ( مالي - موريتانيا - السعودية - اليمن ) .

القاسم المشترك بين هذه الدول .....

- Ⓐ توقيع اتفاقيات لمشكلات حدودية.
- Ⓑ سهولة الاتصال بالعالم الخارجي.
- Ⓒ الانضمام لتكتلات اقتصادية.
- Ⓓ الإشراف على مواقع استراتيجية.

١٨ - «قامت المملكة العربية السعودية باحتجاز قارب هجرة غير شرعية

بمياهاها في الخليج العربي» .

في ضوء العبارة استنتج :

تتوقع أن يكون هذا القارب قادماً من دولة .....

- Ⓐ بنجلاديش.
- Ⓑ كوريا الجنوبية.
- Ⓒ سنغافورة.
- Ⓓ ماليزيا.

١٩ - الحجم السكاني لبعض الدول يدفعها لعقد تحالفات سياسية وعسكرية

مع الدول الكبرى، ويظهر ذلك في .....

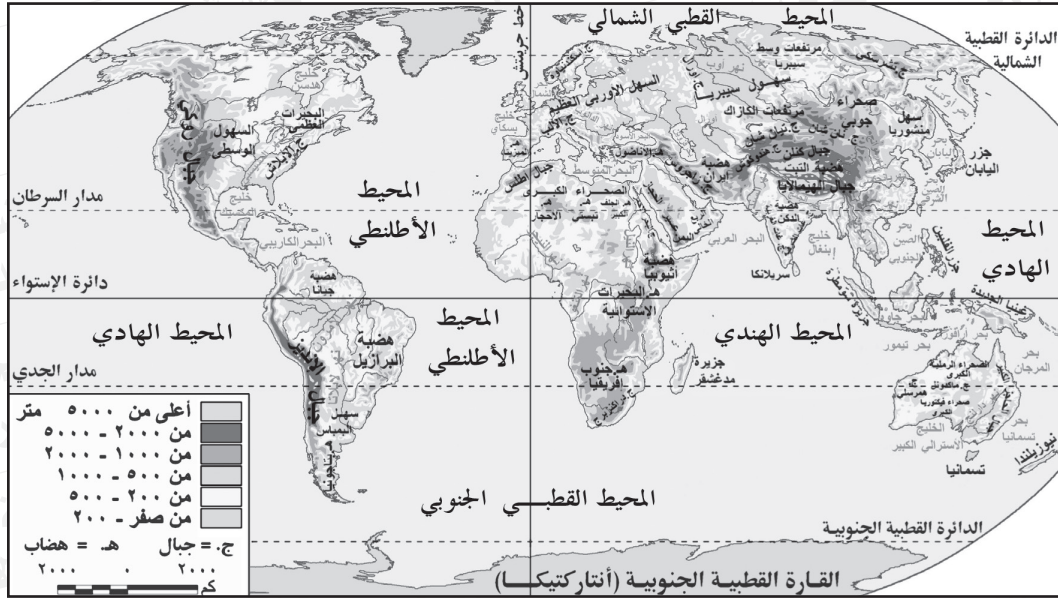
- Ⓐ شرق أمريكا الجنوبية.
- Ⓑ شرق آسيا.
- Ⓒ غرب أمريكا الشمالية.
- Ⓓ جنوب غرب آسيا.



٢٠ - قوتان عظيمتان لعبتا دوراً فعالاً في الإسراع بإعلان النظام العالمي الجديد يتشابهان في .....

- (أ) المظهر التضاريسي لكل منهما.  
 (ب) اشتراكهما في أحلاف عسكرية.  
 (ج) معدل الإنفاق على البحث العلمي.  
 (د) تأثرهما بالصدمات الخارجية.

٢١ - ادرس الخريطة جيداً ثم استنتج:



«تساعد السهول على تحقيق الامتزاج الثقافي بين السكان».

السهول التي تخرج عن ذلك .....

- (أ) سهول سيبيريا شمال آسيا.  
 (ب) السهل الأوروبي العظيم.  
 (ج) السهول الوسطى بأمريكا الشمالية.  
 (د) سهول البمباس بأمريكا الجنوبية.

٢٢- دولة طبقت مبادئ الديمقراطية في التعامل مع الأقليات هي .....

- Ⓐ السودان.
- Ⓑ الجزائر.
- Ⓒ تونس.
- Ⓓ العراق.

٢٣- العملية الانتخابية لها جوانب جغرافية كثيرة تتناولها الجغرافيا السياسية

يخرج عنها .....

- Ⓐ التركيب السكاني.
- Ⓑ الميزان التجاري.
- Ⓒ الأنشطة الاقتصادية.
- Ⓓ التعداد السكاني.

٢٤- دولة تفتقر لمزايا الإنتاج الكبير .....

- Ⓐ المغرب.
- Ⓑ اليمن.
- Ⓒ سلطنة عُمان.
- Ⓓ تونس.

٢٥- الدولة التي حافظت على قوتها وتماسكها رغم تعدد اللغات بها .....

- Ⓐ البرازيل.
- Ⓑ أستراليا.
- Ⓒ سويسرا.
- Ⓓ الأرجنتين.

٢٦- الموقع الجغرافي للأقلية وشكل الدولة لهما أثر على استقرار الدولة،  
ويظهر ذلك في دولة تنتمي لقارة .....

- Ⓐ آسيا.
- Ⓑ أمريكا الجنوبية.
- Ⓒ أفريقيا.
- Ⓓ أمريكا الشمالية.

٢٧- «تتعدد العوامل التي أثرت على تغير الحدود في العالم».

في ضوء ما درسته استنتج:

الحد الذي شهد تغيرات لعوامل طبيعية يقع في .....

- Ⓐ جنوب غرب المكسيك.
- Ⓑ شمال شرق الولايات المتحدة الأمريكية.
- Ⓒ شمال شرق المكسيك.
- Ⓓ شمال غرب الولايات المتحدة الأمريكية.

٢٨- رغم مميزات الجبال اقتصادياً وعسكرياً للدول إلا أن لها أحياناً أثراً

اجتماعياً سلبياً على بعض الدول مثل: .....

- Ⓐ الولايات المتحدة الأمريكية.
- Ⓑ مصر.
- Ⓒ السعودية.
- Ⓓ إسبانيا.

٢٩- كان لانتهاؤ الحرب الباردة وامتلاك الغرب السلاح والتكنولوجيا أثر سلبى

على منطقة .....

- Ⓐ غرب أفريقيا.
- Ⓑ شرق أوروبا.
- Ⓒ شرق أستراليا.
- Ⓓ غرب أمريكا الشمالية.

٣٠- دولة بحرية مُجزأة كانت سبباً في مشكلة حدودية سياسية في جنوب

آسيا .....

- Ⓐ إسبانيا.
- Ⓑ بريطانيا.
- Ⓒ إيطاليا.
- Ⓓ اليابان.



٣١- «الاحتباس الحراري أصبح حالياً مجال اهتمام قادة العالم المُتقدم والنامي على حدٍ سواء».

هذه العبارة توضح إحدى خصائص النظام العالمي الجديد وهي .....

- أ) ظهور التكتلات الاقتصادية الكبرى.
- ب) تحرير التجارة العالمية.
- ج) تقلص دور السيادة الوطنية لدى بعض الدول.
- د) تدويل المشاكل والقضايا التي يواجهها العالم.

٣٢- «تسعى الدول لتحقيق مصالحها مع الاحتفاظ بشخصيتها المستقلة».

في ضوء العبارة استنتج:

حال رغبة (إثيوبيا) تحقيق التواصل مع العالم الخارجي يجب عليها

إقامة اتحاد .....

- أ) كوفيدرالي مع جنوب السودان.
- ب) فيدرالي مع جيبوتي.
- ج) كوفيدرالي مع إريتريا.
- د) فيدرالي مع الصومال.

**ثانياً- الأسئلة الموضوعية (الاختيار من متعدد) «كل سؤال درجتان»:**

٣٣- «قام أحد الباحثين بدراسة المقومات الجغرافية لدولة (جيبوتي) وتوصل إلى أنها اكتسبت علاقات دولية تنبع من موقعها الاستراتيجي».  
في ضوء تلك العبارة وضح:

ساعد في إبراز أهمية هذه الدراسة علم .....

- Ⓐ السياسة.  
Ⓑ الجيوبولتيك.  
Ⓒ الاقتصاد.  
Ⓓ الجغرافيا السياسية.



٣٤- ادرس الخريطة المقابلة ثم استنتج:

يصعب حدوث مشكلات حدودية بين دولتي .....

- Ⓐ تشاد ومالي.  
Ⓑ تنزانيا وكينيا.  
Ⓒ تشاد وأفريقيا الوسطى.  
Ⓓ تنزانيا وموزمبيق.

٣٥- يبدأ الرصيف القاري مع بداية المياه .....

- Ⓐ المحايدة.
- Ⓑ الداخلية.
- Ⓒ الإقليمية.
- Ⓓ التكميلية.

٣٦- «المساحة الكبيرة - الغابات - المرتفعات - الأنهار».

جميعها تشترك في أنها .....

- Ⓐ تعزز وحدة السكان بالدولة.
- Ⓑ ظاهرات استاتيكية.
- Ⓒ ظاهرات ديناميكية.
- Ⓓ ذات أبعاد استراتيجية.

٣٧- ادرس الخريطة ثم استنتج:



قرار محكمة العدل الدولية بانحراف الحد البحري بين تونس وليبيا  
بزاوية (٥٢°) نتيجة تغيير اتجاه خط الساحل لدولة تونس نحو .....

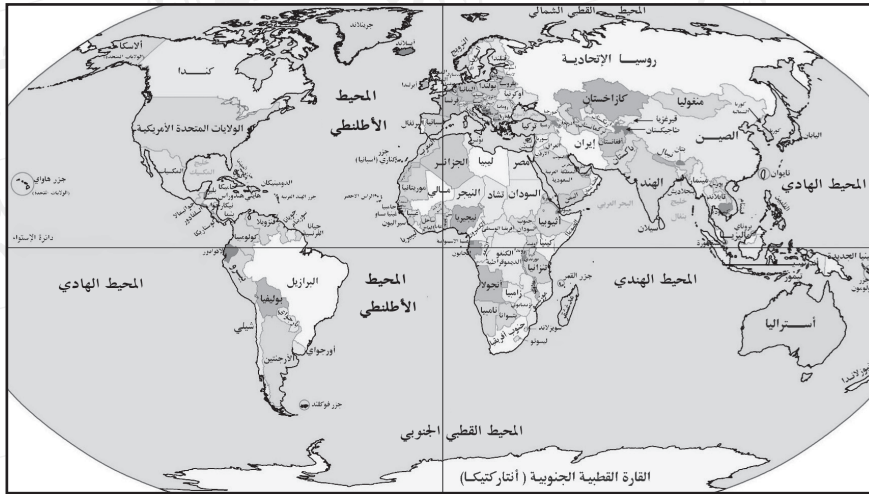
- أ) الشمال الشرقي.  
ب) الشمال الغربي.  
ج) الجنوب الشرقي.  
د) الجنوب الغربي.



٣٨ - ادرس الخريطين ثم استنتج:



خريطة العالم السياسية قبل الحرب العالمية الأولى



خريطة العالم السياسية عام ٢٠١٥م

الدول الأوروبية التي ساهمت في رسم الحدود السياسية بمعظم دول الوطن العربي .....

- أ) ألمانيا والبرتغال.
- ب) فرنسا وإنجلترا.
- ج) بلجيكا وإسبانيا.
- د) بولندا وهولندا.

٣٩- ظهر أثر حركة السكان في نشأة الحدود السياسية .....

أ) جنوب اليونان.

ب) شمال رومانيا.

ج) غرب البرتغال.

د) شرق المملكة المتحدة.

٤٠- يظهر النظام السياسي في صورته المؤسسية من خلال .....

أ) الموافقة على الانضمام لتكتل اقتصادي.

ب) التوسع في مشروعات البنية الأساسية.

ج) التوسع في بناء المدارس.

د) تطوير منظومة التأمين الصحي.

٤١- تتميز (موريتانيا) عن العراق والأردن بالانضمام إلى .....

أ) منظمة دولية.

ب) حلف عسكري.

ج) منظمة إقليمية.

د) تكتل اقتصادي.

٤٢ - كان لفشل معاهدة الصداقة والتعاون والمساعدة المتبادلة أثرٌ في.....

- Ⓐ تناقص الأقليات اللغوية.
- Ⓑ زيادة الأقليات القومية.
- Ⓒ زيادة الأقليات العرقية.
- Ⓓ تناقص الأقليات الدينية.

٤٣ - تنتشر قوات (درع الجزيرة) على سواحل الخليج العربي والبحر الأحمر، وتستفيد منها العديد من الدول يخرج عنها .....

- Ⓐ السعودية وعمان.
- Ⓑ الكويت وقطر.
- Ⓒ العراق واليمن.
- Ⓓ الإمارات والسعودية.

٤٤ - الدولة العربية التي تمتلك علاقات دولية قوية بحكم موقعها وقوتها الديموغرافية .....

- Ⓐ اليمن.
- Ⓑ مصر.
- Ⓒ العراق.
- Ⓓ السودان.

**ثالثاً - الأسئلة المقالية (يتم الإجابة عنها بورقة الإجابة المخصصة لها) :**

**«كل سؤال درجتان» :**

٤٥ - في ضوء دراستك لمجالات الجغرافيا السياسية

حدد مصداقية العبارة التالية :

«ارتبط بالنظام العالمي الجديد ظهور اتحادات كونفدرالية اقتصادية تضم جميع دول أمريكا الشمالية».

٤٦ - «يمتلك مجلس التعاون لدول الخليج العربي بعض المقومات الاقتصادية

ويفتقد بعضها».

دلل على صحة العبارة.